

Государственное бюджетное профессиональное образовательное учреждение
«Пермский нефтяной колледж»

ОДОБРЕНО
цикловой методической комиссией
Протокол № 01
от 10 сентября 2021 г.



О.М. Марахтанов

КОС
(контрольно-оценочные средства)
для проверки знаний, умений студентов

**ПО МДК.01.01 ГЕОГРАФИЧЕСКАЯ ХАРАКТЕРИСТИКА
КАРТОГРАФИРУЕМОЙ ТЕРРИТОРИИ
И МДК.01.02 ВЫПОЛНЕНИЕ СОЦИАЛЬНО-ЭКОНОМИЧЕСКОГО
АНАЛИЗА ТЕРРИТОРИИ РОССИИ И МИРА**

для специальности 05.02.01 Картография

Разработчик: Вяткина Любовь Викторовна, преподаватель ГБПОУ «Пермский нефтяной колледж»

Пояснительная записка

КОС промежуточной аттестации предназначен для контроля и оценки образовательных достижений студентов, осваивающих МДК.01.01 Географическая характеристика картографируемой территории, МДК.01.02 Выполнение социально-экономического анализа территории России и мира.

КОС разработан в соответствии требованиями ОПОП СПО по специальности 05.02.01, квалификация техник-картограф, рабочих программ МДК.01.01 Географическая характеристика картографируемой территории, МДК.01.02 Выполнение социально-экономического анализа территории России и мира.

МДК осваиваются в течение 5 семестра в объеме 86 часов.

КОС включает контрольные материалы для проведения промежуточной аттестации в форме: дифференцированного зачета комплексного.

По результатам изучения МДК 01.01 Географическая характеристика картографируемой территории, МДК 01.02 Выполнение социально-экономического анализа территории России и мира студент должен знать:

- физико-географические особенности крупных регионов мира и России;
- социальные и экономические особенности крупных регионов России и мира;
- экономико-географическое районирование России.

уметь:

- анализировать природные, социально-экономические карты с целью объяснения и оценки разнообразных явлений и процессов;
- использовать географические знания в процессе создания карт.

ОК 01. Выбирать способы решения задач профессиональной деятельности, применительно к различным контекстам.

ОК 2. Осуществлять поиск, анализ и интерпретацию информации, необходимой для выполнения задач профессиональной деятельности.

ОК 03. Планировать и реализовывать собственное профессиональное и личностное развитие

ОК 04. Работать в коллективе и команде, эффективно взаимодействовать с коллегами, руководством, клиентами.

ПК 1.1 Анализировать факторы формирования и свойства сфер географической оболочки.

ПК 1.2 Выполнять физико-географический анализ территории России и мира.

ПК 1.3 Выполнять экономико-географический анализ территории России и мира.

Контрольно-оценочные средства промежуточной аттестации

Вопросы для подготовки к дифференцированному зачету комплексному

1. Общая характеристика Тихого океана
2. Общая характеристика Атлантического океана
3. Общая характеристика Индийского океана
4. Общая характеристика Северного Ледовитого океана
5. Южный океан
6. Климатические изменения. Потеря биоразнообразия
7. Экологические кризисы. Кризис доступа к питьевой воде и продовольствию
8. Социальные глобальные проблемы
9. Освоение космического пространства
10. Стратегия устойчивого развития
11. Экономическая и социальная география как наука. Современный этап развития науки
12. Многообразие стран современного мира. Влияние международных отношений на политическую карту мира. Международные организации. Государственный строй стран мира. Политическая география.
13. Взаимодействие общества и природы. Оценка мировых природных ресурсов. Загрязнение и охрана окружающей среды. Географическое ресурсоведение и геоэкология.
14. Численность и воспроизводство населения. Структура населения. Размещение и миграции населения. Городское и сельское население.
15. Научно-техническая революция. Мировое хозяйство. Отраслевая и территориальная структура мирового хозяйства. Факторы размещения
16. География мировой промышленности. Основные центры производства. География сельского хозяйства. Основные районы производства. География мирового транспорта. География мировой сферы услуг.
17. Общая социально-экономическая характеристика Зарубежной Европы. Субрегионы и страны.
18. Общая социально-экономическая характеристика Зарубежной Азии. Субрегионы и страны.
19. Общая социально-экономическая характеристика Латинской Америки. Субрегионы и страны.
20. Общая социально-экономическая характеристика Северной Америки. Субрегионы и страны.
21. Общая социально-экономическая характеристика Австралии и Океании.
22. Общая социально-экономическая характеристика Африки. Субрегионы и страны.
23. Экономико-географическое и геополитическое положение. Природно-ресурсный потенциал. География населения. Россия в современном мировом хозяйстве. Отраслевая и территориальная структура хозяйства. Характеристика географии отраслей хозяйства. Внешние экономические связи.
24. Экономико-географическое районирование. Комплексная экономико-географическая характеристика федеральных округов России.

I. Форма промежуточной аттестации: дифференцированный зачет комплексный (тестирование)

Тест состоит из 40 тестовых заданий, всего 3 варианта. В тесте использованы тестовые задания различной формы. В начале каждого задания имеется инструкция, указывающая на действия, которые студенты должны выполнить для успешного решения тестовых заданий.

При выполнении заданий с формулировкой «*Выберите правильный вариант ответа*» студенты должны выбрать *один правильный ответ* из предложенных.

При выполнении заданий с формулировкой «*Выберите правильные варианты ответов*» студенты должны выбрать *один или несколько* правильных ответов из предложенных.

При выполнении заданий с формулировкой «*Дополните предложение*» студентам необходимо дописать то, что считают правильным.

При выполнении заданий с формулировкой «*Установите соответствие*» студентам необходимо найти такие однозначные связи между позициями первого и второго столбиков, чтобы одной позиции первого столбика соответствовала только одна позиция второго. Повтор используемых позиций недопустим.

При выполнении заданий с формулировкой «*Установите правильную последовательность*» необходимо расставить предложенные позиции в нужной последовательности.

При выполнении заданий с формулировкой «*Заполните таблицу*» необходимо заполнить таблицу, следуя указанию в задании.

При выполнении заданий с формулировкой «*Запишите*» необходимо, следуя указанию в задании, записать соответствующие ответы.

При выполнении заданий с формулировкой «*Определите*» необходимо записать ответ, выполнив задание.

Время выполнения – 60 мин

Тест № 1

Выберите из предложенных вариантов правильный ответ

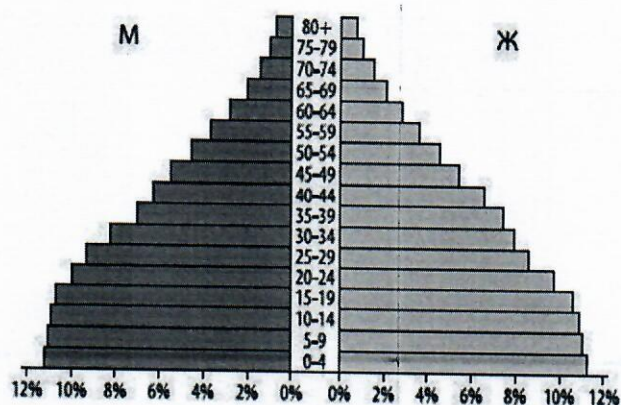
1. СУВЕРЕННОЕ ГОСУДАРСТВО - ЭТО:
 - А) территория, находящаяся под властью иностранного государства, без самостоятельной политической и экономической власти, управляемая на основе особого режима;
 - Б) образование, которое имеет чётко определённую территорию, на которой оно осуществляет внутреннюю и внешнюю политику, имеет постоянное население, правительство, не зависит от других государств;
 - В) промышленно развитое образование, от экономической помощи которого зависят страны со средним и низким уровнем дохода.

2. ДОЛЯ СЕЛЬСКОХОЗЯЙСТВЕННЫХ ЗЕМЕЛЬ В СТРУКТУРЕ ЗЕМЕЛЬНОГО ФОНДА РОССИИ:
 - А) 13%;
 - Б) 25%;
 - В) 40%.

3. СТРАНЫ ЛАТИНСКОЙ АМЕРИКИ, ЗАНИМАЮЩИЕ ПЕРВЫЕ ТРИ МЕСТА ПО ЧИСЛЕННОСТИ НАСЕЛЕНИЯ:
 - А) Мексика, Колумбия, Венесуэла;
 - Б) Аргентина, Перу, Чили;
 - В) Бразилия, Мексика, Аргентина.

4. КРУПНЫЙ РЕГИОН МИРА, НА КОТОРЫЙ В ТЕЧЕНИЕ ПОСЛЕДНИХ ЧЕТЫРЕХ ДЕСЯТИЛЕТИЙ ПРИХОДИТСЯ ПРЕОБЛАДАЮЩАЯ ЧАСТЬ МИГРАНТОВ В США:
 - А) Зарубежная Европа;
 - Б) Зарубежная Азия;
 - В) Африка;
 - Г) Латинская Америка.

5. СТРАНА С СООТВЕТСТВУЮЩЕЙ ПОЛОВОЗРАСТНОЙ ПИРАМИДОЙ:



- А) Индия;
- Б) Германия;
- В) Италия.

6. ГЛАВНЫЕ СЕЛЬСКОХОЗЯЙСТВЕННЫЕ КУЛЬТУРЫ КИТАЯ, КОТОРЫЕ ВЫРАЩИВАЮТСЯ В ПРЕДЕЛАХ 20-30° С.Ш.:

- А) соя, хлопчатник;
- Б) чай, рис, сахарный тростник;
- В) кукуруза, пшеница, картофель.

7. ФОРМА ПРАВЛЕНИЯ АВСТРАЛИИ:

- А) республика;
- Б) абсолютная монархия;
- В) конституционная монархия.

8. ВИД ТРАНСПОРТА, КОТОРЫЙ ЗАНИМАЕТ ПЕРВОЕ МЕСТО В МИРОВОМ ПАССАЖИРООБОРОТЕ:

- А) железнодорожный;
- Б) автомобильный;
- В) воздушный.

9. СТРАНА-ЛИДЕР ПО ПРИЕМУ ИНОСТРАННЫХ ТУРИСТОВ:

- А) Франция;
- Б) Кипр;
- В) Мексика.

10. МЕЖДУНАРОДНОЕ ГЕОГРАФИЧЕСКОЕ РАЗДЕЛЕНИЕ ТРУДА – ЭТО:

- А) политическая теория и практика, основанная на положении о географической детерминированности государственной политики;
- Б) система международных товарно-денежных отношений, складывающаяся из внешней торговли всех стран мира;
- В) специализация отдельных стран в производстве определённых видов продукции.

11. СТРАНА С НАИБОЛШИМ КОЛИЧЕСТВОМ МЕЖДУНАРОДНЫХ ПОРТОВ:

- А) Китай;
- Б) Россия;
- В) США.

Выберите из предложенных вариантов правильные ответы

12. ГОРОДА РОССИИ, В КОТОРЫХ ЧИСЛЕННОСТЬ НАСЕЛЕНИЯ В ПРЕДЕЛАХ ГОРОДСКОЙ ЧЕРТЫ ПРЕВЫШАЕТ 1 МИЛЛИОН ЧЕЛОВЕК:

- А) Челябинск;
- Б) Самара;
- В) Хабаровск;
- Г) Волгоград;

Д) Тюмень.

13. ВИДЫ ХОЗЯЙСТВЕННОЙ ДЕЯТЕЛЬНОСТИ, ЯВЛЯЮЩИЕСЯ ПРОЯВЛЕНИЕМ НЕРАЦИОНАЛЬНОГО ПРИРОДОПОЛЬЗОВАНИЯ:

- А) сжигание в факелах отходов нефтепереработки;
- Б) производство биотоплива из отходов деревообрабатывающей промышленности;
- В) использование попутного нефтяного газа в качестве сырья в химической промышленности;
- Г) вырубка лесов на горных склонах;
- Д) использование возобновляемых источников энергии в электроэнергетике.

14. ГОСУДАРСТВА, РАСПОЛОЖЕННЫЕ НА ОСТРОВАХ И АРХИПЕЛАГАХ:

- А) Великобритания;
- Б) Эстония;
- В) Шри-Ланка;
- Г) Мадагаскар;
- Д) Танзания.

15. ПРИРОДНЫЕ РЕСУРСЫ ЛАТИНСКОЙ АМЕРИКИ, ИМЕЮЩИЕ МИРОВОЕ ЗНАЧЕНИЕ:

- А) нефть;
- Б) уголь;
- В) железные руды;
- Г) медные руды;
- Д) бокситы;
- Е) водные ресурсы;
- Ж) лесные ресурсы.

Дополните предложение. Одному пропуску соответствует только одно слово

16. ВИД ВНЕШНЕЭКОНОМИЧЕСКОЙ ДЕЯТЕЛЬНОСТИ, НАПРАВЛЕННЫЙ НА ПРОДАЖУ ТОВАРОВ И УСЛУГ ЗА РУБЕЖ, НАЗЫВАЕТСЯ _____.

17. ЦЕЛЕНАПРАВЛЕННАЯ ДЕЯТЕЛЬНОСТЬ ГОСУДАРСТВЕННЫХ ОРГАНОВ И ИНЫХ СОЦИАЛЬНЫХ ИНСТИТУТОВ В СФЕРЕ РЕГУЛИРОВАНИЯ ПРОЦЕССОВ ВОСПРОИЗВОДСТВА НАСЕЛЕНИЯ НАЗЫВАЕТСЯ ДЕМОГРАФИЧЕСКОЙ _____.

18. САМОЙ КРУПНОЙ МИРОВОЙ РЕЛИГИЕЙ ПО ЧИСЛЕННОСТИ ПРИВЕРЖЕНЦЕВ И ПО ГЕОГРАФИЧЕСКОЙ РАСПРОСТРАНЁННОСТИ ЯВЛЯЕТСЯ _____.

19. КОРЕННОЙ КАЧЕСТВЕННЫЙ ПЕРЕВОРОТ В ПРОИЗВОДИТЕЛЬНЫХ СИЛАХ ЧЕЛОВЕЧЕСТВА ПРЕДСТАВЛЯЕТ СОБОЙ НАУЧНО-ТЕХНИЧЕСКУЮ _____.


Установите соответствие

20. СТРАНА

ДИАГРАММА, ОТРАЖАЮЩАЯ РАСПРЕДЕЛЕНИЕ ВВП ПО СЕКТОРАМ ЭКОНОМИКИ (черный цвет – промышленность, серый цвет – сельское хозяйство, белый цвет – сфера услуг)

1. Китай

А)



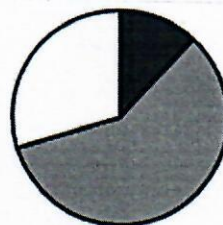
2.

Центральноафриканская республика



Б)

3. США

В)



Г)



21. СТРАНА
1. Австралия
2. Ирландия
3. Канада

СТОЛИЦА

- А) Дублин
Б) Нью-Дели
В) Оттава
Г) Канберра

22. СУБЪЕКТ РФ
1. Мордовия
2. Карелия
3. Чувашская республика

СТОЛИЦА

- А) Саранск
Б) Петрозаводск
В) Ижевск
Г) Чебоксары

23. ИНТЕГРАЦИОННАЯ
ГРУППИРОВКА СТРАН
МИРА

ХАРАКТЕРИСТИКА

1. Европейский Союз (ЕС) А) политическая, экономическая и культурная региональная межправительственная организация 10 стран, расположенных в Юго-Восточной Азии
2. Североамериканское соглашение о свободной торговле (НАФТА) Б) бывшее соглашение о свободной торговле между Канадой, США и Мексикой
3. Ассоциация государств Юго-Восточной Азии (АСЕАН) В) международная межправительственная организация, созданная нефтеэкспортирующими странами в целях контроля квот добычи на нефть
4. Организация стран – экспортёров нефти (ОПЕК) Г) объединение, созданное для обеспечения экономических и политических целей стран-участниц, в которое входит 27 государств
- Д) объединение экономического сотрудничества 12 государств Латинской Америки

Прочитайте текст и установите последовательность

24. Индекс человеческого развития (ИЧР) – интегральный показатель, рассчитываемый ежегодно для межстранового сравнения основных характеристик человеческого потенциала исследуемой территории. Определите последовательность стран в порядке возрастания в них показателя индекса человеческого развития (ИЧР):

- А) Нигер;
- Б) Швейцария;
- В) Мексика;
- Г) Албания.





Установите правильную последовательность

25. ГРУЗОПОТОКИ НЕФТИ В ПОРЯДКЕ ВОЗРАСТАНИЯ ОБЪЕМА ПЕРЕВОЗОК:

- А) Юго-Восточная Азия – Япония;
- Б) Западная Африка – Европа;
- В) страны Карибского бассейна – США.

Заполните таблицу

26.

ОЧЕРТАНИЕ СТРАНЫ	НАЗВАНИЕ СТРАНЫ
1) 	А)
2) 	Б)
3) 	В)
4) 	Г)

27.

ЭКСПОРТНЫЙ ТОВАР	ГЛАВНАЯ СТРАНА-ЭКСПОРТЁР
1) нефть	А)
2) природный газ	Б)
3) уголь	В)
4) железная руда	Г)

Напишите

28. КОМПОНЕНТЫ ИНТЕГРАЛЬНОГО ПОКАЗАТЕЛЯ ИНДЕКСА РАЗВИТИЯ ЧЕЛОВЕЧЕСКОГО ПОТЕНЦИАЛА:

- А)
- Б)
- В)

29. КРУПНЕЙШИЕ ГОРОДСКИЕ АГЛОМЕРАЦИИ МИРА:

- А)

- Б)
В)

Установите, верно ли утверждение

30. САМЫЕ ВЫСОКИЕ ПОКАЗАТЕЛИ РОЖДАЕМОСТИ, СМЕРТНОСТИ И ЕСТЕСТВЕННОГО ПРИРОСТА СВОЙСТВЕННЫ ЗАРУБЕЖНОЙ АЗИИ

- А) верно
Б) не верно

31. ТРОПИЧЕСКАЯ АФРИКА НАИМЕНЕЕ ИНДУСТРИАЛИЗИРОВАННЫЙ И УРБАНИЗИРОВАННЫЙ РЕГИОН НЕ ТОЛЬКО АФРИКИ, НО И ВСЕГО МИРА

- А) верно
Б) не верно

32. В МИРЕ МОЖНО ВЫДЕЛИТЬ ЧЕТЫРЕ МАШИНОСТРОИТЕЛЬНЫХ РЕГИОНА: СЕВЕРНАЯ АМЕРИКА, ЗАРУБЕЖНАЯ ЕВРОПА, ВОСТОЧНАЯ И ЮГО-ВОСТОЧНАЯ АЗИЯ, СТРАНЫ СНГ

- А) верно
Б) не верно

Определите

33. СТРАНУ, РАСПОЛОЖЕННУЮ В ЗАПАДНОМ ПОЛУШАРИИ И ИМЕЮЩУЮ ВЫХОД К ТРЁМ ОКЕАНАМ. НА МАТЕРИКЕ, ГДЕ СТРАНА РАСПОЛОЖЕНА, ОНА ЯВЛЯЕТСЯ ПЕРВОЙ ПО ПЛОЩАДИ ТЕРРИТОРИИ И ТРЕТЬЕЙ ПО ЧИСЛЕННОСТИ НАСЕЛЕНИЯ. В МЕЖДУНАРОДНОМ ГЕОГРАФИЧЕСКОМ РАЗДЕЛЕНИИ ТРУДА ОНА ЯВЛЯЕТСЯ ПОСТАВЩИКОМ ПРОДУКЦИИ ГОРНОДОБЫВАЮЩЕЙ ПРОМЫШЛЕННОСТИ, МАШИНОСТРОЕНИЯ, МЕТАЛЛУРГИИ, ТОПЛИВНОЙ, ХИМИЧЕСКОЙ И ЛЕСНОЙ ПРОМЫШЛЕННОСТИ, А ТАКЖЕ СЕЛЬСКОГО ХОЗЯЙСТВА.

34. РЕГИОН РОССИИ, РАСПОЛОЖЕННЫЙ В ЕВРОПЕЙСКОЙ ЧАСТИ РОССИИ И НЕ ИМЕЮЩИЙ ГРАНИЦЫ С ЗАРУБЕЖНЫМИ СТРАНАМИ. ЧАСТЬ ТЕРРИТОРИИ РЕСПУБЛИКИ РАСПОЛОЖЕНА ЗА ПОЛЯРНЫМ КРУГОМ. ГЛАВНЫМИ ПРИРОДНЫМИ БОГАТСТВАМИ ЯВЛЯЮТСЯ ЗАПАСЫ ЛЕСА, НЕФТИ, ПРИРОДНОГО ГАЗА И КАМЕННОГО УГЛЯ. ПЛОТНОСТЬ НАСЕЛЕНИЯ НИЖЕ СРЕДНЕЙ ПО РОССИИ.

Прочитайте текст

Для определения доли сельскохозяйственного экспорта в общем объеме экспорта страны и определения роли сельского хозяйства в экономике используют данные справочных материалов показателей социально-экономического развития стран

Показатели социально-экономического развития некоторых стран Южной Америки и Африки в 2019 г.

Страна	Объем ВВП, млрд долл	Структура ВВП, %			Структура занятости населения, %			Объем экспорта, млрд долл	Объем сельскохозяйственного экспорта, млрд долл
		Сфера услуг	Промышленность	Сельское хозяйство	Сфера услуг	Промышленность	Сельское хозяйство		
Перу	420,2	59,9	32,7	7,4	57	18	25	44,9	9,6
Уганда	89,1	50,7	21,1	28,2	23	7	70	2,8	1,4

Определите

35. ДОЛЮ НАСЕЛЕНИЯ, ЗАНЯТОГО В СЕЛЬСКОМ ХОЗЯЙСТВЕ, В ПЕРУ (%).

36. ДОЛЮ НАСЕЛЕНИЯ, ЗАНЯТОГО В СЕЛЬСКОМ ХОЗЯЙСТВЕ, В УГАНДЕ (%).

37. ДОЛЮ СЕЛЬСКОХОЗЯЙСТВЕННОГО ЭКСПОРТА В ОБЩЕМ ОБЪЕМЕ ЭКСПОРТА ПЕРУ (%).

38. ДОЛЮ СЕЛЬСКОХОЗЯЙСТВЕННОГО ЭКСПОРТА В ОБЩЕМ ОБЪЕМЕ ЭКСПОРТА УГАНДЫ (%).

39. СТРАНУ, ГДЕ СЕЛЬСКОЕ ХОЗЯЙСТВО ИГРАЕТ БОЛЬШУЮ РОЛЬ В ЭКОНОМИКЕ.

Прочитайте текст

Картографу необходимо построить картограмму «Африка. Доля городского населения», используя такую же интервальную шкалу, как на приведённой карте Южной Америки.



Страна	Численность населения, млн чел	Рождаемость, ‰	Смертность, ‰	Плотность населения, чел/км ²	Доля городского населения, %	Ожидаемая продолжительность жизни, лет	Доля лиц в возрасте младше 15 лет, %	Доля лиц в возрасте старше 65 лет, %
Нигер	22,2	48	10	18	16	60	50	3
Тунис	11,6	19	6	76	68	76	24	8
Уганда	44,1	41	9	229	24	63	48	3

Установите соответствие

40. СТРАНА

1. Нигер
2. Тунис
3. Уганда

УСЛОВНОЕ ОБОЗНАЧЕНИЕ

- А) 0-20
- Б) 21-40
- В) 41-60
- Г) 61-80+

Ключ к тесту № 1:

Номер	Ответ
1	Б
2	А
3	В
4	Г
5	А
6	Б
7	В
8	Б
9	А
10	В
11	В
12	АБГ
13	АГ
14	АВГ

15	АВГЕЖ
16	Экспорт
17	Политикой
18	Христианство
19	Революцию
20	1Г, 2Б, 3А
21	1Г, 2А, 3В
22	1А, 2Б, 3Г
23	1Г, 2Б, 3А, 4В
24	АВГБ
25	АВБ
26	А – Мексика, Б – Египет, В – Индонезия, Г – Франция
27	А – Саудовская Аравия, Б – Россия, В – Индонезия, Г – Австралия
28	А – продолжительность жизни, Б – образование, В – уровень жизни
29	А – Токио, Б – Джакарта, В – Дели
30	Б
31	А
32	А
33	Канада
34	Республика Коми
35	25
36	70
37	21
38	50
39	Уганда
40	1А, 2Г, 3Б

Критерии оценки за тест № 1:

от 32 до 40 баллов – «5» отлично

от 24 до 31 балла – «4» хорошо

от 12 до 23 баллов – «3» удовлетворительно

менее 11 баллов – «2» неудовлетворительно

Тест № 2

Выберите из предложенных вариантов правильный ответ

1. КОЛОНИЯ - ЭТО:

- А) территория, находящаяся под властью иностранного государства, без самостоятельной политической и экономической власти, управляемая на основе особого режима;
- Б) образование, которое имеет чётко определённую территорию, на которой оно осуществляет внутреннюю и внешнюю политику, имеет постоянное население, правительство, не зависит от других государств;
- В) промышленно развитое образование, от экономической помощи которого зависят страны со средним и низким уровнем дохода.

2. ДОЛЯ ПАХОТНЫХ ЗЕМЕЛЬ ОТ ОБЩЕЙ ПЛОЩАДИ ПАХОТНЫХ ЗЕМЕЛЬ КИТАЯ:

- А) 2%;
- Б) 10%;
- В) 50%.

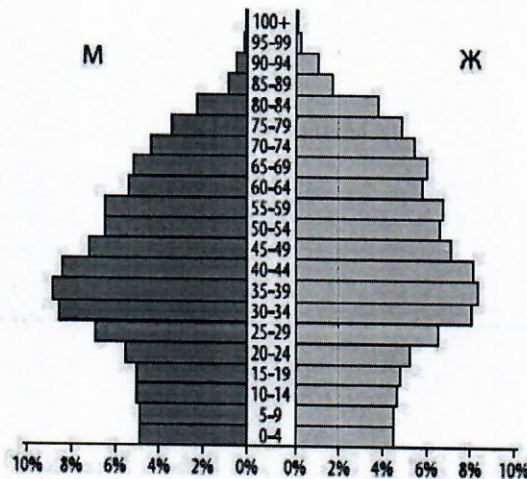
3. СТРАНЫ ЛАТИНСКОЙ АМЕРИКИ, ЗАНИМАЮЩИЕ ПЕРВЫЕ ТРИ МЕСТА ПО ЧИСЛЕННОСТИ НАСЕЛЕНИЯ:

- А) Бразилия, Мексика, Аргентина;
- Б) Мексика, Колумбия, Венесуэла;
- В) Аргентина, Перу, Чили.

4. МАЯТНИКОВАЯ МИГРАЦИЯ – ЭТО:

- А) условное название регулярных (ежедневных) поездок населения из одного населённого пункта (места жительства) в другой – на работу или учёбу и обратно;
- Б) переселение людей из страны в страну;
- В) переселение людей из района в район внутри страны.

5. СТРАНА С СООТВЕТСТВУЮЩЕЙ ПОЛОВОЗРАСТНОЙ ПИРАМИДОЙ:



- А) Нигерия;
- Б) Мексика;
- В) Италия.

6. ГЛАВНЫЕ СЕЛЬСКОХОЗЯЙСТВЕННЫЕ КУЛЬТУРЫ КИТАЯ, КОТОРЫЕ ВЫРАЩИВАЮТСЯ В ПРЕДЕЛАХ 30-40° С.Ш.:

- А) соя, хлопчатник;
- Б) чай, рис, сахарный тростник;
- В) кукуруза, пшеница, картофель.

7. ФОРМА ПРАВЛЕНИЯ ФРАНЦИИ:

- А) республика;
- Б) абсолютная монархия;
- В) конституционная монархия.

8. ВИД ТРАНСПОРТА, КОТОРЫЙ ЗАНИМАЕТ ПЕРВОЕ МЕСТО В МИРОВОМ ГРУЗООБОРОТЕ:

- А) железнодорожный;
- Б) воздушный;
- В) морской.

9. СТРАНА, НАИМЕНЕЕ ПОСЕЩАЕМАЯ ИНОСТРАННЫМИ ТУРИСТАМИ:

- А) Таиланд;
- Б) Коморские острова;
- В) Китай.

10. МЕЖДУНАРОДНАЯ ТОРГОВЛЯ – ЭТО:

- А) политическая теория и практика, основанная на положении о географической детерминированности государственной политики;
- Б) система международных товарно-денежных отношений, складывающаяся из внешней торговли всех стран мира;
- В) специализация отдельных стран в производстве определённых видов продукции.

11. СТРАНА С НАИБОЛШИМ КОЛИЧЕСТВОМ МЕЖДУНАРОДНЫХ ПОРТОВ:

- А) Китай;
- Б) США;
- В) Россия.

Выберите из предложенных вариантов правильные ответы

12. ГОРОДА РОССИИ, В КОТОРЫХ ЧИСЛЕННОСТЬ НАСЕЛЕНИЯ В ПРЕДЕЛАХ ГОРОДСКОЙ ЧЕРТЫ ПРЕВЫШАЕТ 2 МИЛЛИОН ЧЕЛОВЕК:

- А) Челябинск;
- Б) Самара;
- В) Москва;
- Г) Санкт-Петербург;
- Д) Тюмень.

13. ВИДЫ ХОЗЯЙСТВЕННОЙ ДЕЯТЕЛЬНОСТИ, ЯВЛЯЮЩИЕСЯ ПРОЯВЛЕНИЕМ РАЦИОНАЛЬНОГО ПРИРОДОПОЛЬЗОВАНИЯ:

- А) сжигание в факелах отходов нефтепереработки;
- Б) создание культурных ландшафтов, заповедников и национальных парков;
- В) строительство очистных сооружений;
- Г) вырубка лесов на горных склонах;
- Д) использование возобновляемых источников энергии в электроэнергетике.

14. СТРАНЫ, ПОЛНОСТЬЮ РАСПОЛОЖЕННЫЕ ВНУТРИ ДРУГОЙ СТРАНЫ:

- А) Ватикан;
- Б) Эстония;
- В) Сан-Марино;
- Г) Лесото;
- Д) Танзания.

15. ПРИРОДНЫЕ РЕСУРСЫ ЛАТИНСКОЙ АМЕРИКИ, ИМЕЮЩИЕ МИРОВОЕ ЗНАЧЕНИЕ:

- А) нефть;
- Б) уголь;
- В) железные руды;
- Г) медные руды;
- Д) никель;
- Е) природный газ;
- Ж) лесные ресурсы.

Дополните предложение. Одному пропуску соответствует только одно слово

16. ВВОЗ ТОВАРОВ, РАБОТ, УСЛУГ, РЕЗУЛЬТАТОВ ИНТЕЛЛЕКТУАЛЬНОЙ ДЕЯТЕЛЬНОСТИ НА ТЕРРИТОРИЮ ГОСУДАРСТВА ИЗ-ЗА ГРАНИЦЫ БЕЗ ОБЯЗАТЕЛЬСТВ НА ОБРАТНЫЙ ВЫВОЗ НАЗЫВАЕТСЯ _____.

17. ЦЕЛЕНАПРАВЛЕННАЯ ДЕЯТЕЛЬНОСТЬ ГОСУДАРСТВЕННЫХ ОРГАНОВ И ИНЫХ СОЦИАЛЬНЫХ ИНСТИТУТОВ В СФЕРЕ РЕГУЛИРОВАНИЯ ПРОЦЕССОВ ВОСПРОИЗВОДСТВА НАСЕЛЕНИЯ НАЗЫВАЕТСЯ ДЕМОГРАФИЧЕСКОЙ _____.

18. САМОЙ МОЛОДОЙ МИРОВОЙ РЕЛИГИЕЙ И ВТОРОЙ ПО ЧИСЛЕННОСТИ ПРИВЕРЖЕНЦЕВ ЯВЛЯЕТСЯ _____.

19. НЕПРЕРЫВНЫЙ ПРОЦЕСС ВНЕДРЕНИЯ НОВОЙ ТЕХНИКИ И ТЕХНОЛОГИЙ В ХОЗЯЙСТВО НА ОСНОВЕ ДОСТИЖЕНИЙ И РЕАЛИЗАЦИИ НАУЧНЫХ ЗНАНИЙ С ЦЕЛЬЮ ПОВЫШЕНИЯ ЭФФЕКТИВНОСТИ И КАЧЕСТВА ПРОЦЕССОВ И УДОВЛЕТВОРЕНИЯ ПОТРЕБНОСТЕЙ ОБЩЕСТВА НАЗЫВАЕТСЯ НАУЧНО-ТЕХНИЧЕСКИМ _____.


Установите соответствие

20. СТРАНА

ДИАГРАММА, ОТРАЖАЮЩАЯ РАСПРЕДЕЛЕНИЕ ВВП ПО СЕКТОРАМ ЭКОНОМИКИ (черный цвет – промышленность, серый цвет – сельское хозяйство, белый цвет – сфера услуг)

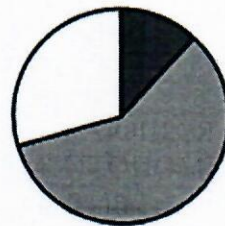
1. Китай

А)



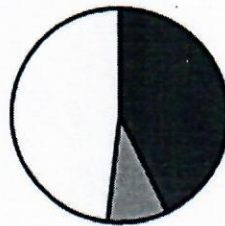
2. Центральнаяафриканская республика

Б)

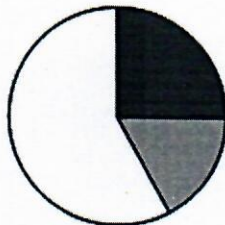


3. США

В)



Г)



21.

СТРАНА

1. Мексика
2. Танзания
3. Китай

СТОЛИЦА

- А) Додома
- Б) Пекин
- В) Мадрид
- Г) Мехико

22. СУБЪЕКТ РФ

СТОЛИЦА

1. Республика Тыва
2. Алтайский край
3. Приморский край

- А) Барнаул
- Б) Хабаровск
- В) Кызыл
- Г) Владивосток

23. ИНТЕГРАЦИОННАЯ ГРУППИРОВКА СТРАН МИРА

ХАРАКТЕРИСТИКА

1. Европейский Союз (ЕС) А) политическая, экономическая и культурная региональная межправительственная организация 10 стран, расположенных в Юго-Восточной Азии
2. Североамериканское соглашение о свободной торговле (НАФТА) Б) бывшее соглашение о свободной торговле между Канадой, США и Мексикой
3. Ассоциация государств Юго-Восточной Азии (АСЕАН) В) международная межправительственная организация, созданная нефтеэкспортирующими странами в целях контроля квот добычи на нефть
4. Организация стран – экспортёров нефти (ОПЕК) Г) объединение, созданное для обеспечения экономических и политических целей стран-участниц, в которое входит 27 государств
Д) объединение экономического сотрудничества 12 государств Латинской Америки

Прочитайте текст и установите последовательность

24. Индекс человеческого развития (ИЧР) – интегральный показатель, рассчитываемый ежегодно для межстранового сравнения основных характеристик человеческого потенциала исследуемой территории. Определите последовательность стран в порядке возрастания в них показателя индекса человеческого развития (ИЧР):

- А) Вьетнам;
- Б) Уганда;
- В) Германия;
- Г) Латвия.

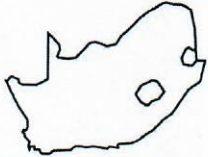

Установите правильную последовательность



25. ГРУЗОПОТОКИ НЕФТИ В ПОРЯДКЕ ВОЗРАСТАНИЯ ОБЪЕМА ПЕРЕВОЗОК:

- А) Юго-Восточная Азия – Япония;
- Б) Западная Африка – Европа;
- В) страны Карибского бассейна – США.

Заполните таблицу

26.

ОЧЕРТАНИЕ СТРАНЫ	НАЗВАНИЕ СТРАНЫ
1) 	А)
2) 	Б)
3)	В)

		
4) 	Г)	

27.

ЭКСПОРТНЫЙ ТОВАР	ГЛАВНАЯ СТРАНА-ЭКСПОРТЁР
1) нефть	А)
2) природный газ	Б)
3) уголь	В)
4) железная руда	Г)

Напишите

28. ПОКАЗАТЕЛИ СОЦИАЛЬНО-ЭКОНОМИЧЕСКОГО РАЗВИТИЯ СТРАН:

- А)
- Б)

29. КРУПНЕЙШИЕ ГОРОДСКИЕ АГЛОМЕРАЦИИ РОССИИ:

- А)
- Б)
- В)

Установите, верно ли утверждение

30. РЕСПУБЛИК В МИРЕ МЕНЬШЕ, ЧЕМ МОНАРХИЙ

- А) верно
- Б) не верно

31. НОВЫЕ ИНДУСТРИАЛЬНЫЕ СТРАНЫ АЗИИ ОСОБО ВЫДЕЛЯЮТСЯ ПО ПРОИЗВОДСТВУ ЭЛЕКТРОННО-ВЫЧИСЛИТЕЛЬНОЙ ТЕХНИКИ

- А) верно
- Б) не верно

32. КАРКАС ТРАНСПОРТНОЙ СИСТЕМЫ США ОБРАЗУЮТ ТРАНСКОНТИНЕНТАЛЬНЫЕ МАГИСТРАЛИ ШИРОТНОГО И МЕРИДИОНАЛЬНОГО НАПРАВЛЕНИЙ

- А) верно
- Б) не верно

Определите

33. СТРАНУ, ОТНОСЯЩУЮСЯ К ЧИСЛУ ЭКОНОМИЧЕСКИ ВЫСОКОРАЗВИТЫХ. ЕЕ ТЕРРИТОРИЯ РАСПОЛОЖЕНА В ВОСТОЧНОМ ПОЛУШАРИИ И ОМЫВАЕТСЯ ВОДАМИ ТИХОГО И ИНДИЙСКОГО ОКЕАНОВ. ЗНАЧИТЕЛЬНУЮ ЧАСТЬ ТЕРРИТОРИИ ЗАНИМАЮТ ПУСТЫНИ И ПОЛУПУСТЫНИ. В МИРОВОМ ГЕОГРАФИЧЕСКОМ РАЗДЕЛЕНИИ ТРУДА СТРАНА ИГРАЕТ РОЛЬ КРУПНОГО ПОСТАВЩИКА ЖЕЛЕЗНОЙ РУДЫ, КАМЕННОГО УГЛЯ И СЖИЖЕННОГО ПРИРОДНОГО ГАЗА, А ТАКЖЕ ПРОДУКЦИИ ЖИВОТНОВОДСТВА.

34. РЕГИОН РОССИИ, НАХОДЯЩИЙСЯ НА ЮГЕ ЕВРОПЕЙСКОЙ ЧАСТИ РОССИИ, ИМЕЮЩИЙ ВЫХОД К МОРЮ, НА ЗАПАДЕ ГРАНИЧАЩИЙ С ОДНОЙ ИЗ ЗАРУБЕЖНЫХ СТРАН. ПЛОДОРОДНЫЕ ЧЕРНОЗЕМНЫЕ ПОЧВЫ СПОСОБСТВУЮТ РАЗВИТИЮ МОЩНОГО АГРОПРОМЫШЛЕННОГО КОМПЛЕКСА. В ОБЛАСТИ СООРУЖЕНА АТОМНАЯ ЭЛЕКТРОСТАНЦИЯ. АДМИНИСТРАТИВНЫЙ ЦЕНТР - ГОРОД-МИЛЛИОНЕР, ЧЕРЕЗ НЕГО

ПРОХОДЯТ ВАЖНЫЕ АВТОМОБИЛЬНАЯ И ЖЕЛЕЗНОДОРОЖНАЯ МАГИСТРАЛИ, СВЯЗЫВАЮЩИЕ ЦЕНТР РОССИИ С ЮЖНЫМИ РЕГИОНАМИ РОССИИ И ЗАРУБЕЖНЫМИ СТРАНАМИ.

Прочитайте текст

Для определения доли сельскохозяйственного экспорта в общем объеме экспорта страны и определения роли сельского хозяйства в экономике используют данные справочных материалов показателей социально-экономического развития стран

Показатели социально-экономического развития некоторых стран Южной Америки и Африки в 2019 г.

Страна	Объем ВВП, млрд долл	Структура ВВП, %			Структура занятости населения, %			Объем экспорта, млрд долл	Объем сельскохозяйственного экспорта, млрд долл
		Сфера услуг	Промышленность	Сельское хозяйство	Сфера услуг	Промышленность	Сельское хозяйство		
Перу	420,2	59,9	32,7	7,4	57	18	25	44,9	9,6
Уганда	89,1	50,7	21,1	28,2	23	7	70	2,8	1,4

Определите

35. ДОЛЮ НАСЕЛЕНИЯ, ЗАНЯТОГО В СЕЛЬСКОМ ХОЗЯЙСТВЕ, В ПЕРУ (%).
36. ДОЛЮ НАСЕЛЕНИЯ, ЗАНЯТОГО В СЕЛЬСКОМ ХОЗЯЙСТВЕ, В УГАНДЕ (%).
37. ДОЛЮ СЕЛЬСКОХОЗЯЙСТВЕННОГО ЭКСПОРТА В ОБЩЕМ ОБЪЕМЕ ЭКСПОРТА ПЕРУ (%).
38. ДОЛЮ СЕЛЬСКОХОЗЯЙСТВЕННОГО ЭКСПОРТА В ОБЩЕМ ОБЪЕМЕ ЭКСПОРТА УГАНДЫ (%).
39. СТРАНУ, ГДЕ СЕЛЬСКОЕ ХОЗЯЙСТВО ИГРАЕТ БОЛЬШУЮ РОЛЬ В ЭКОНОМИКЕ.

Прочитайте текст

Картографу необходимо построить картограмму «Африка. Доля городского населения», используя такую же интервальную шкалу, как на приведённой карте Южной Америки.



Страна	Численность населения, млн чел	Рождаемость, ‰	Смертность, ‰	Плотность населения, чел/км ²	Доля городского населения, %	Ожидаемая продолжительность жизни, лет	Доля лиц в возрасте младше 15 лет, %	Доля лиц в возрасте старше 65 лет, %
Нигер	22,2	48	10	18	16	60	50	3
Тунис	11,6	19	6	76	68	76	24	8
Уганда	44,1	41	9	229	24	63	48	3

Установите соответствие

40. СТРАНА

1. Нигер


УСЛОВНОЕ ОБОЗНАЧЕНИЕ

А)  0-20

2. Тунис

3. Уганда

Б)  21–40

В)  41–60

Г)  61–80+

Ключ к тесту № 2:

Номер	Ответ
1	А
2	Б
3	А
4	А
5	В
6	А
7	А
8	В
9	Б
10	Б
11	Б
12	ВГ
13	БВД
14	АВГ
15	АВГЕЖ
16	Импорт
17	Политикой
18	Мусульманство (ислам)
19	Прогрессом
20	1Г, 2Б, 3А
21	1Г, 2А, 3Б
22	1В, 2А, 3Г
23	1Г, 2Б, 3А, 4В
24	БАГВ
25	АВБ
26	А – ЮАР, Б – Португалия, В – Япония, Г – Панама
27	А – Саудовская Аравия, Б – Россия, В – Индонезия, Г – Австралия
28	А – внутренний валовой продукт, Б – индекс развития человеческого потенциала
29	А – Московская, Б – Санкт-Петербургская, В – Самарско-Тольяттинская
30	Б
31	А
32	А
33	Австралия

34	Ростовская область
35	25
36	70
37	21
38	50
39	Уганда
40	1А, 2Г, 3Б

Критерии оценки за тест № 2:

от 32 до 40 баллов – «5» отлично

от 24 до 31 балла – «4» хорошо

от 12 до 23 баллов – «3» удовлетворительно

менее 11 баллов – «2» неудовлетворительно

Тест № 3:

Выберите из предложенных вариантов правильный ответ

1. СУВЕРЕННОЕ ГОСУДАРСТВО - ЭТО:

А) территория, находящаяся под властью иностранного государства, без самостоятельной политической и экономической власти, управляемая на основе особого режима;

Б) образование, которое имеет чётко определённую территорию, на которой оно осуществляет внутреннюю и внешнюю политику, имеет постоянное население, правительство, не зависит от других государств;

В) промышленно развитое образование, от экономической помощи которого зависят страны со средним и низким уровнем дохода.

2. ДОЛЯ ПАХОТНЫХ ЗЕМЕЛЬ ОТ ОБЩЕЙ ПЛОЩАДИ ПАХОТНЫХ ЗЕМЕЛЬ КАНАДЫ:

А) 4%;

Б) 14%;

В) 24%.

3. СТРАНЫ ЛАТИНСКОЙ АМЕРИКИ, ЗАНИМАЮЩИЕ ПЕРВЫЕ ТРИ МЕСТА ПО ЧИСЛЕННОСТИ НАСЕЛЕНИЯ:

А) Мексика, Колумбия, Венесуэла;

Б) Аргентина, Перу, Чили;

В) Бразилия, Мексика, Аргентина.

4. ПРОЦЕСС МАССОВОЙ ЭМИГРАЦИИ, ПРИ КОТОРОЙ ИЗ СТРАНЫ ИЛИ РЕГИОНА УЕЗЖАЮТ СПЕЦИАЛИСТЫ, УЧЁНЫЕ И КВАЛИФИЦИРОВАННЫЕ РАБОЧИЕ ПО ПОЛИТИЧЕСКИМ, ЭКОНОМИЧЕСКИМ, РЕЛИГИОЗНЫМ ИЛИ ИНЫМ ПРИЧИНАМ:

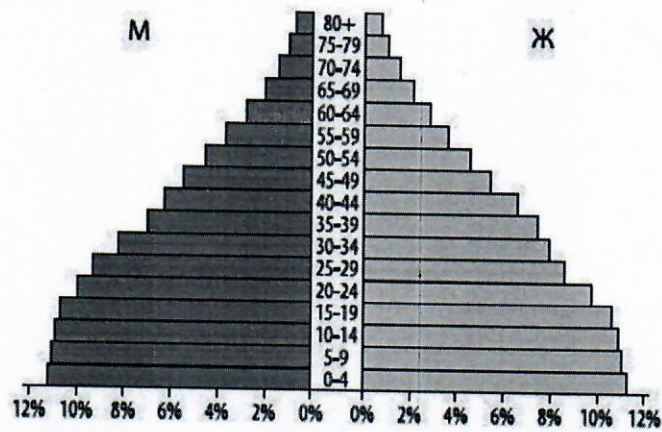
А) «утечка мозгов»;

Б) «утечка капитала»;

В) сезонная миграция;

Г) маятниковая миграция.

5. СТРАНА С СООТВЕТСТВУЮЩЕЙ ПОЛОВОЗРАСТНОЙ ПИРАМИДОЙ:



- А) Индия;
- Б) Германия;
- В) Италия.

6. ГЛАВНЫЕ СЕЛЬСКОХОЗЯЙСТВЕННЫЕ КУЛЬТУРЫ КИТАЯ, КОТОРЫЕ ВЫРАЩИВАЮТСЯ В ПРЕДЕЛАХ 20-30° С.Ш.:

- А) соя, хлопчатник;
- Б) чай, рис, сахарный тростник;
- В) кукуруза, пшеница, картофель.

7. ФОРМА ПРАВЛЕНИЯ БРАЗИЛИИ:

- А) республика;
- Б) абсолютная монархия;
- В) конституционная монархия.

8. ВИД ТРАНСПОРТА, ОБЕСПЕЧИВАЮЩИЙ ОКОЛО 80% ОБЪЕМА ГРУЗОПЕРЕВОЗОК ЧИЛИ:

- А) воздушный;
- Б) автомобильный;
- В) морской.

9. СТРАНА-ЛИДЕР ПО ПРИЕМУ ИНОСТРАННЫХ ТУРИСТОВ:

- А) Франция;
- Б) Кипр;
- В) Мексика.

10. ГЕОПОЛИТИКА – ЭТО:

- А) политическая теория и практика, основанная на положении о географической детерминированности государственной политики;
- Б) система международных товарно-денежных отношений, складывающаяся из внешней торговли всех стран мира;
- В) специализация отдельных стран в производстве определённых видов продукции.

11. КРУПНЕЙШИЙ МОРСКОЙ ПОРТ В МИРЕ:

- А) Порт-Саид;
- Б) Марсель;
- В) Шанхайский.

Выберите из предложенных вариантов правильные ответы

12. ГОРОДА РОССИИ, В КОТОРЫХ ЧИСЛЕННОСТЬ НАСЕЛЕНИЯ В ПРЕДЕЛАХ ГОРОДСКОЙ ЧЕРТЫ ПРЕВЫШАЕТ 1 МИЛЛИОН ЧЕЛОВЕК:

- А) Красноярск;
- Б) Уфа;
- В) Владивосток;
- Г) Астрахань;
- Д) Ростов-на-Дону.

13. ВИДЫ ХОЗЯЙСТВЕННОЙ ДЕЯТЕЛЬНОСТИ, ЯВЛЯЮЩИЕСЯ ПРОЯВЛЕНИЕМ НЕРАЦИОНАЛЬНОГО ПРИРОДОПОЛЬЗОВАНИЯ:

- А) неумеренный выпас скота;
- Б) истребление отдельных видов растений и животных;
- В) радиоактивное загрязнение среды;
- Г) вырубка лесов на горных склонах;
- Д) использование возобновляемых источников энергии в электроэнергетике.

14. ГОСУДАРСТВА, РАСПОЛОЖЕННЫЕ НА ОСТРОВАХ И АРХИПЕЛАГАХ:

- А) Великобритания;
- Б) Эстония;
- В) Индонезия;
- Г) Боливия;
- Д) Танзания.

15. ПРИРОДНЫЕ РЕСУРСЫ ЛАТИНСКОЙ АМЕРИКИ, ИМЕЮЩИЕ МИРОВОЕ ЗНАЧЕНИЕ:

- А) нефть;
- Б) уголь;
- В) железные руды;
- Г) медные руды;
- Д) бокситы;
- Е) водные ресурсы;
- Ж) лесные ресурсы.

Дополните предложение. Одному пропуску соответствует только одно слово

16. ВИД ВНЕШНЕЭКОНОМИЧЕСКОЙ ДЕЯТЕЛЬНОСТИ, НАПРАВЛЕННЫЙ НА ПРОДАЖУ ТОВАРОВ И УСЛУГ ЗА РУБЕЖ, НАЗЫВАЕТСЯ _____.

17. СИСТЕМА МЕР, НАПРАВЛЕННЫХ НА ОСУЩЕСТВЛЕНИЕ СОЦИАЛЬНЫХ ПРОГРАММ, ПОДДЕРЖАНИЯ ДОХОДОВ, УРОВНЯ ЖИЗНИ НАСЕЛЕНИЯ, ОБЕСПЕЧЕНИЯ ЗАНЯТОСТИ, ПОДДЕРЖКИ ОТРАСЛЕЙ СОЦИАЛЬНОЙ СФЕРЫ, ПРЕДОТВРАЩЕНИЯ СОЦИАЛЬНЫХ КОНФЛИКТОВ НАЗЫВАЕТСЯ СОЦИАЛЬНОЙ _____.

18. САМОЙ ДРЕВНЕЙ МИРОВОЙ РЕЛИГИЕЙ ЯВЛЯЕТСЯ _____.

19. КОРЕННОЙ КАЧЕСТВЕННЫЙ ПЕРЕВОРОТ В ПРОИЗВОДИТЕЛЬНЫХ СИЛАХ ЧЕЛОВЕЧЕСТВА ПРЕДСТАВЛЯЕТ СОБОЙ _____ НАУЧНО-ТЕХНИЧЕСКУЮ _____.


Установите соответствие

20. СТРАНА

ДИАГРАММА, ОТРАЖАЮЩАЯ РАСПРЕДЕЛЕНИЕ ВВП ПО СЕКТОРАМ ЭКОНОМИКИ (черный цвет – промышленность, серый цвет – сельское хозяйство, белый цвет – сфера услуг)

1. Китай

А)



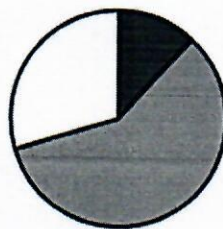
2.

Центральноафриканская республика

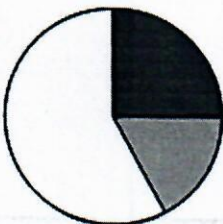

Б)

3. США

В)



Г)



21. СТРАНА

1. Египет
2. Индия
3. Чили

СТОЛИЦА

- А) Сантьяго
- Б) Каир
- В) Панама
- Г) Нью-Дели

22. СУБЪЕКТ РФ

1. Республика Хакасия
2. Республика Дагестан
3. Удмуртская республика

СТОЛИЦА

- А) Элиста
- Б) Махачкала
- В) Ижевск
- Г) Абакан

23. ИНТЕГРАЦИОННАЯ
ГРУППИРОВКА СТРАН
МИРА

ХАРАКТЕРИСТИКА

1. Европейский Союз (ЕС)
2. Североамериканское соглашение о свободной торговле (НАФТА)
3. Ассоциация государств Юго-Восточной Азии (АСЕАН)
4. Организация стран – экспортёров нефти (ОПЕК)

- А) политическая, экономическая и культурная региональная межправительственная организация 10 стран, расположенных в Юго-Восточной Азии
- Б) бывшее соглашение о свободной торговле между Канадой, США и Мексикой
- В) международная межправительственная организация, созданная нефтеэкспортирующими странами в целях контроля квот добычи на нефть
- Г) объединение, созданное для обеспечения экономических и политических целей стран-участниц, в которое входит 27 государств
- Д) объединение экономического сотрудничества 12 государств Латинской Америки

Прочитайте текст и установите последовательность

24. Индекс человеческого развития (ИЧР) – интегральный показатель, рассчитываемый ежегодно для межстранового сравнения основных характеристик человеческого потенциала исследуемой территории. Определите последовательность стран в порядке возрастания в них показателя индекса человеческого развития (ИЧР):

- А) Нигер;
- Б) Швейцария;
- В) Мексика;
- Г) Албания.





Установите правильную последовательность

25. ГРУЗОПОТОКИ НЕФТИ В ПОРЯДКЕ ВОЗРАСТАНИЯ ОБЪЕМА ПЕРЕВОЗОК:

- А) Юго-Восточная Азия – Япония;
- Б) Западная Африка – Европа;
- В) страны Карибского бассейна – США.

Заполните таблицу

26.

ОЧЕРТАНИЕ СТРАНЫ	НАЗВАНИЕ СТРАНЫ	
1) 	А)	
2) 	Б)	
3) 	В)	
4) 	Г)	

27.

ЭКСПОРТНЫЙ ТОВАР	ГЛАВНАЯ СТРАНА-ЭКСПОРТЁР	
1) нефть	А)	
2) природный газ	Б)	
3) уголь	В)	
4) железная руда	Г)	

Напишите

28. КОМПОНЕНТЫ ИНТЕГРАЛЬНОГО ПОКАЗАТЕЛЯ ИНДЕКСА РАЗВИТИЯ ЧЕЛОВЕЧЕСКОГО ПОТЕНЦИАЛА:

- А)
- Б)
- В)

29. КРУПНЕЙШИЕ ГОРОДСКИЕ АГЛОМЕРАЦИИ ЮЖНОЙ АМЕРИКИ:

- А)

- Б)
В)

Установите, верно ли утверждение

30. ЕСТЕСТВЕННЫЙ ПРИРОСТ НАСЕЛЕНИЯ В ЗАРУБЕЖНОЙ ЕВРОПЕ СОСТАВЛЯЕТ 28%

- А) верно
Б) не верно

31. ПО ПОГОЛОВЬЮ КРУПНОГО РОГАТОГО СКОТА ИНДИЯ ЗАНИМАЕТ ПЕРВОЕ МЕСТО В МИРЕ

- А) верно
Б) не верно

32. ДОЛЯ АФРИКИ В МИРОВОЙ ГОРНОДОБЫВАЮЩЕЙ ПРОМЫШЛЕННОСТИ ОСОБЕННО ВЕЛИКА ПО АЛМАЗАМ, ЗОЛОТУ, КОБАЛЬТОВЫМ РУДАМ, ХРОМИТАМ, МАРГАНЦЕВОЙ РУДЕ, УРАНУ, ФОСФОРИТАМ, МЕДНЫМ РУДАМ

- А) верно
Б) не верно

Определите

33. СТРАНУ, ОСОБЕННОСТЯМИ ГЕОГРАФИЧЕСКОГО ПОЛОЖЕНИЯ КОТОРОЙ ЯВЛЯЮТСЯ НАЛИЧИЕ ГРАНИЦЫ С РОССИЕЙ И ОТСУТСТВИЕ ВЫХОДА К МОРЮ. БОЛЬШАЯ ЧАСТЬ ТЕРРИТОРИИ РАСПОЛОЖЕНА НА ВЫСОТЕ СВЫШЕ 1000 МЕТРОВ НАД УРОВНЕМ МОРЯ. КЛИМАТ РЕЗКО КОНТИНЕНТАЛЬНЫЙ, В НЕКОТОРЫХ РАЙОНАХ РАСПРОСТРАНЕНА МНОГОЛЕТНЯЯ МЕРЗЛОТА. ОСНОВНОЙ ЛАНДШАФТ – СУХИЕ СТЕПИ, ПРИМЕРНО ЧЕТВЕРТЬ ТЕРРИТОРИИ ЗАНЯТА ПУСТЫНЕЙ. БОЛЬШИНСТВО ВЕРУЮЩИХ ИСПОВЕДУЮТ БУДДИЗМ.

34. РЕГИОН РОССИИ, РАСПОЛОЖЕННЫЙ НА ГРАНИЦЕ ЕВРОПЕЙСКОЙ И АЗИАТСКОЙ ЧАСТЕЙ РОССИИ. ТЕРРИТОРИЯ ОБЛАСТИ ИМЕЕТ ВЫХОД К ГОСУДАРСТВЕННОЙ ГРАНИЦЕ С КАЗАХСТАНОМ. БОЛЬШАЯ ЧАСТЬ ТЕРРИТОРИИ ИМЕЕТ РАВНИННЫЙ РЕЛЬЕФ, ВОСТОЧНУЮ ЧАСТЬ ОБЛАСТИ ЗАНИМАЮТ ЮЖНЫЕ ОТРОГИ УРАЛЬСКИХ ГОР. ГЛАВНЫМИ ОТРАСЛЯМИ ПРОМЫШЛЕННОСТИ ЯВЛЯЮТСЯ МАШИНОСТРОЕНИЕ, МЕТАЛЛУРГИЯ, НЕФТЯНАЯ И ГАЗОВАЯ ПРОМЫШЛЕННОСТЬ.

Прочитайте текст

Для определения доли сельскохозяйственного экспорта в общем объеме экспорта страны и определения роли сельского хозяйства в экономике используют данные справочных материалов показателей социально-экономического развития стран

Показатели социально-экономического развития некоторых стран Южной Америки и Африки в 2019 г.

Страна	Объем ВВП, млрд долл	Структура ВВП, %			Структура занятости населения, %			Объем экспорта, млрд долл	Объем сельскохозяйственного экспорта, млрд долл
		Сфера услуг	Промышленность	Сельское хозяйство	Сфера услуг	Промышленность	Сельское хозяйство		
Перу	420,2	59,9	32,7	7,4	57	18	25	44,9	9,6
Уганда	89,1	50,7	21,1	28,2	23	7	70	2,8	1,4

Определите

35. ДОЛЮ НАСЕЛЕНИЯ, ЗАНЯТОГО В СЕЛЬСКОМ ХОЗЯЙСТВЕ, В ПЕРУ (%).

36. ДОЛЮ НАСЕЛЕНИЯ, ЗАНЯТОГО В СЕЛЬСКОМ ХОЗЯЙСТВЕ, В УГАНДЕ (%).

37. ДОЛЮ СЕЛЬСКОХОЗЯЙСТВЕННОГО ЭКСПОРТА В ОБЩЕМ ОБЪЕМЕ ЭКСПОРТА ПЕРУ (%).

38. ДОЛЮ СЕЛЬСКОХОЗЯЙСТВЕННОГО ЭКСПОРТА В ОБЩЕМ ОБЪЕМЕ ЭКСПОРТА УГАНДЫ (%).

39. СТРАНУ, ГДЕ СЕЛЬСКОЕ ХОЗЯЙСТВО ИГРАЕТ БО́ЛЬШУЮ РОЛЬ В ЭКОНОМИКЕ.

Прочитайте текст

Картографу необходимо построить картограмму «Африка. Доля городского населения», используя такую же интервальную шкалу, как на приведённой карте Южной Америки.



Страна	Численность населения, млн чел	Рождаемость, ‰	Смертность, ‰	Плотность населения, чел/км ²	Доля городского населения, %	Ожидаемая продолжительность жизни, лет	Доля лиц в возрасте младше 15 лет, %	Доля лиц в возрасте старше 65 лет, %
Нигер	22,2	48	10	18	16	60	50	3
Тунис	11,6	19	6	76	68	76	24	8
Уганда	44,1	41	9	229	24	63	48	3

Установите соответствие

40. СТРАНА

1. Нигер
2. Тунис
3. Уганда

УСЛОВНОЕ ОБОЗНАЧЕНИЕ

- А) 0–20
- Б) 21–40
- В) 41–60
- Г) 61–80*

Ключ к тесту № 3:

Номер	Ответ
1	Б
2	А
3	В
4	А
5	А
6	Б
7	А
8	В
9	А
10	А
11	В
12	АБД
13	АБВГ
14	АВ
15	АВГЕЖ

16	Экспорт
17	Политикой
18	Буддизм
19	Революцию
20	1Г, 2Б, 3А
21	1Б, 2Г, 3А
22	1Г, 2Б, 3В
23	1Г, 2Б, 3А, 4В
24	АВГБ
25	АВБ
26	А – Мексика, Б – Египет, В – Индонезия, Г – Франция
27	А – Саудовская Аравия, Б – Россия, В – Индонезия, Г – Австралия
28	А – продолжительность жизни, Б – образование, В – уровень жизни
29	А – Рио-де-Жанейро, Б – Буэнос-Айрес, В – Сан-Паулу
30	Б
31	А
32	А
33	Монголия
34	Оренбургская область
35	25
36	70
37	21
38	50
39	Уганда
40	1А, 2Г, 3Б

Критерии оценки за тест № 3:

от 32 до 40 баллов – «5» отлично

от 24 до 31 балла – «4» хорошо

от 12 до 23 баллов – «3» удовлетворительно

менее 11 баллов – «2» неудовлетворительно